






 <p>..... دسته ی ..... تایی</p>	<p>با توجه به شکل کامل کنید.</p>  <p>..... دسته ی ..... تایی می شود</p> <p>..... دسته ی ..... تایی می شود</p>	<p>۱</p>
<p>دور اعداد زوج خط بکشید.</p> <p>۹۷۸ - ۳۷۵ - ۴۱۱ - ۶۰۹ - ۴۶۱ - ۲۰۰ - ۱۷۶ - ۲۰۳ - ۵۶۲</p>		<p>۲</p>
<p>۷ قسمت از ۱۴ قسمت شکل های زیر را رنگی کنید</p> 		<p>۳</p>
<p>در یک بسته ۲ دایره و ۱ مربع و ۴ مستطیل است                  احتمال برداشتن شکل ..... از همه ی شکل ها بیشتر است.                  احتمال برداشتن شکل ..... از همه کمتر است.</p>		<p>۴</p>
<p>با استفاده از روش فرایندی</p> <div style="display: flex; justify-content: space-around;"> <div style="border: 1px solid black; padding: 5px;"> <math display="block">\begin{array}{r} ۳۶۳ \\ + \\ \hline ۵۱۴ \end{array}</math> </div> <div style="border: 1px solid black; padding: 5px;"> <math display="block">\begin{array}{r} ۹۸۵ \\ - \\ \hline ۶۴۳ \end{array}</math> </div> </div>	<p>با استفاده از روش تکنیکی</p> <div style="display: flex; justify-content: space-around;"> <div style="border: 1px solid purple; padding: 5px;"> <math display="block">\begin{array}{r} ۵۸۷ \\ + \\ \hline ۲۹۶ \end{array}</math> </div> <div style="border: 1px solid purple; padding: 5px;"> <math display="block">\begin{array}{r} ۷۴۱ \\ - \\ \hline ۳۴۸ \end{array}</math> </div> </div> 	<p>۵</p>
<p>علی ۸۰۰ ریال پول داشت. او یک مداد به قیمت ۱۸۰ ریال و یک دفتر به قیمت ۲۴۵ ریال خرید. علی چند ریال از پول هایش را خرج کرده است؟</p>		<p>۶</p>

<p>ابتدا جمع و تفریق ها را انجام دهید و حاصل را کنار هر کدام بنویسید، سپس جواب ها را مقایسه کنید.</p> <p>..... ■ ۷۰۰ - ۲۰۰ ○ ۹۰۰ - ۴۰۰ ■ .....      ..... = ۱۰ + ۱۰ + ۱۰۰ + ۱۰۰ ○ ۸ + ۱۰ + ۲۰۰ = .....      ۷</p>	۷
<p>نوشته ها را بخوان و کامل کن</p> <p>۴ سانتی متر و ۶ میلی متر یعنی ..... میلی متر</p> <p>۱۲۹ میلی متر یعنی ..... سانتی متر و ..... میلی متر</p> <p>۱۶ میلی متر یعنی ..... سانتی متر و ..... میلی متر</p> <p>۳ سانتی متر یعنی ..... میلی متر</p>	۸
<p>با توجه به شکل جملات را کامل کنید</p> <div style="display: flex; justify-content: space-around; align-items: center;"> <div style="text-align: center;">  <p>..... قسمت از ..... قسمت مساوی رنگ شده است .</p> </div> <div style="text-align: center;">  <p>..... قسمت از ..... قسمت مساوی رنگ شده است .</p> </div> </div>	۹
<p>اندازه ی فلش ..... و ..... است .</p> 	۱۰
<p>طول شانه بین ..... چینه است. یعنی از ..... چینه بیشتر و از ..... کمتر است.</p> 	۱۱
<p>باز خورد معلم:</p> <p>○ خیلی خوب      ○ خوب      ○ قابل قبول      ○ نیاز به تلاش بیشتر</p> <p><b>موفق باشید بچه های عزیز</b></p>	